


Sol y Sombra



1. ¿Cómo se siente el lugar soleado?




caliente templado fresco frío

(encierra en un círculo la respuesta)




2. ¿Cómo se siente el lugar con sombra?




caliente templado fresco frío

(encierra en un círculo la respuesta)

3. ¿Cuál de los dos lugares está más iluminado?



en el sol



en la sombra

(encierra en un círculo la respuesta)

Fecha: _____


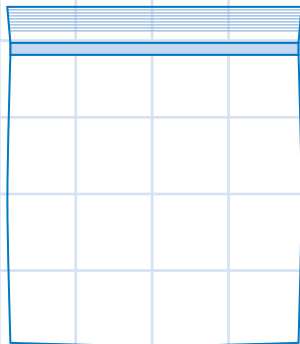
Bolsas de Hielo



Dibuja cómo se ven las bolsas al comenzar:

EN EL SOL

EN LA SOMBRA



Comienzo



Comienzo



Dibuja cómo se ven las bolsas al final:

EN EL SOL

EN LA SOMBRA



Final

Final



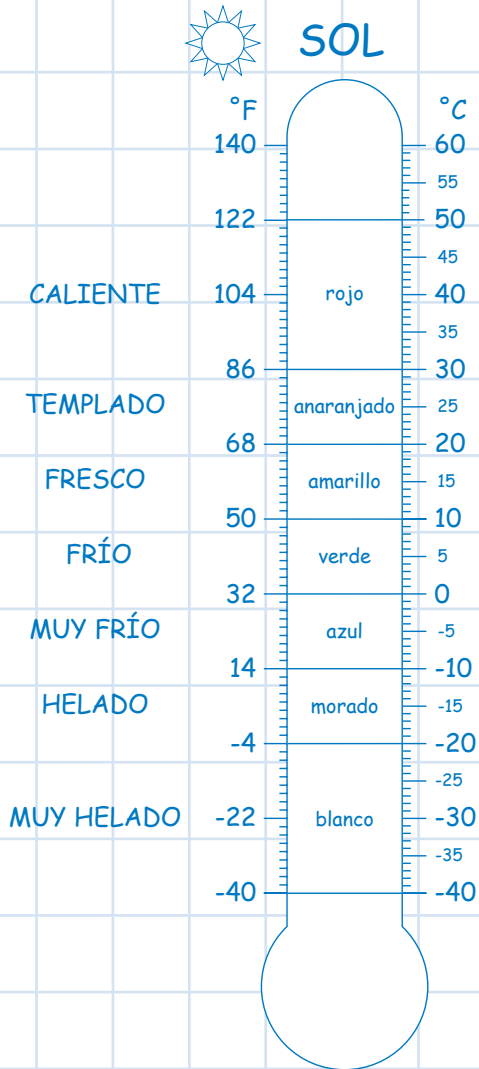
Piensa:

¿Porqué se derritió el hielo?

Midiendo la Temperatura



1. Traza la línea roja del termómetro en los dibujos de abajo.



2. temperatura = _____ temperatura = _____
 (color) (color)

3. ¿Cuál es más caliente? el lugar con sol el lugar con sombra
 (Encierra en un círculo la respuesta)